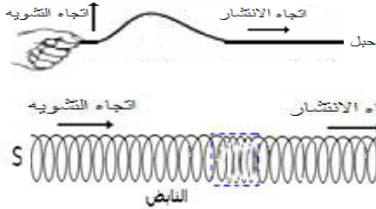
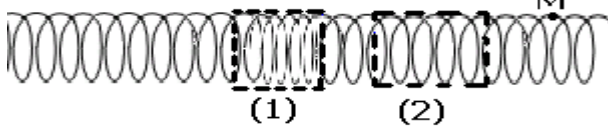


- *موجة ميكانيكية : ظاهرة انتشار تشوه في وسط مادي مرن دون انتقال للمادة التي تكون هذا الوسط مع انتقال للطاقة .
- *الموجة الميكانيكية المتوالية : تتابع مستمر لإشارات ميكانيكية ، ناتج عن اضطراب مصان ومستمر لمنبع الموجات . تنتشر موجة ، انطلاقا من منبعها في جميع الاتجاهات المتاحة لها .
- *الموجة المستعرضة : يكون فيها اتجاه تشويه الوسط عموديا على اتجاه الانتشار .
- *الموجة الطولية : يكون فيها اتجاه تشويه الوسط على استقامة مع اتجاه الانتشار .
- *الصوت موجة ميكانيكية متوالية طولية لا تنتشر في الفراغ ، وهو عبارة عن تمدد وانضغاط لوسط الانتشار .
- *نعرف سرعة انتشار موجة بالعلاقة التالية : $v = \frac{d}{\Delta t}$ حيث d المسافة التي تقطعها الموجة خلال المدة الزمنية Δt .
- *تتعلق سرعة انتشار موجة بطبيعة الوسط ومرونته وصلابته وقصوره وبدرجة الحرارة .



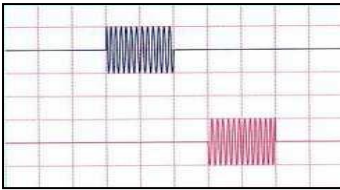
الناي : وسط الانتشار



3- حدد منحى واتجاه حركة M عندما تصلها الموجة .

تمرين 4 :

نسجل بواسطة راسم التذبذب ، بالمدخل y_1 ، التوتر u_E بين مرطبي باعث الموجات فوق الصوتية (E) ، و بالمدخل y_2 ، التوتر u_R بين مرطبي مستقبل الموجات فوق الصوتية



(R) . المسافة بين E و R هي $d=5,1\text{cm}$.

1- حدد مدة تشويه نقطة من وسط الانتشار علما أن

الحساسية الأفقية هي $50\mu\text{s/div}$.

2- حدد المدة τ ، بين بعث واستقبال الموجة .

3- استنتج سرعة انتشار الموجة فوق الصوتية في الهواء .

تمرين 5 :

نحدث عند الطرف S لحبل مرن ، موجة مستعرضة تنتشر

بسرعة $V=10\text{m/s}$.

عند $t=0$ يوجد مطلع الإشارة

عند المنبع S .

يمثل المنحنى جانبه ، تغيرات

استطالة المنبع بدلالة الزمن t .

نعتبر نقطة M من الحبل ،

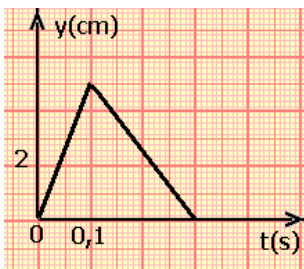
توجد على مسافة $SM=4\text{m}$.

1- حدد مدة التشويه Δt لنقطة من نقط الحبل .

2- احسب التأخر الزمني τ بين النقطتين S و M .

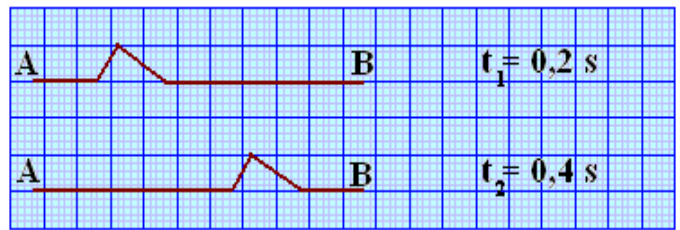
3- كيف يمكن استنتاج استطالة النقطة M بدلالة الزمن

انطلاقا من استطالة المنبع S؟ مثل المنحنى $y_M(t)$.



تمرين 1 :

يمثل الشكل التالي حبل (AB) طوله $L=10\text{m}$ ، تنتشر طوله موجة في اللحظتين t_1 و t_2 .



1- هل الموجة طولية أم مستعرضة ؟ علل جوابك .

2- احسب سرعة انتشار الموجة .

3- في أي تاريخ انبعثت الموجة من النقطة A ؟

4- حدد مدة التشويه Δt لنقطة من نقط الحبل .

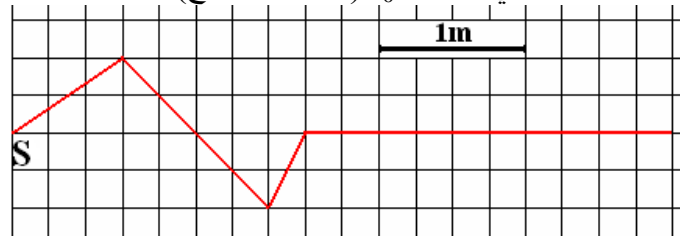
5- في أي لحظة تصل الموجة للنقطة B ؟

تمرين 2 :

نحدث عند الطرف S لحبل مرن ، موجة مستعرضة تنتشر

طول الحبل بسرعة $V=10\text{m.s}^{-1}$.

نصور الحبل في اللحظة t_0 (أصل التواريخ) ، فنجد :



ارسم شكل الحبل عند $t_1=0,1\text{s}$ و $t_2=0,15\text{s}$ و $t_3=0,2\text{s}$.

تمرين 3 :

نحدث موجة طول نايض بضغط بعض لفاته وتحريرها .

يمثل الشكل جانبه حالة النايض في لحظة معينة t .

1- هل الموجة المنتشرة طول النايض طولية أم مستعرضة؟

2- صف عند اللحظة t ، حالة النايض في (1) و (2) .

الموجات الميكانيكية المتوالية

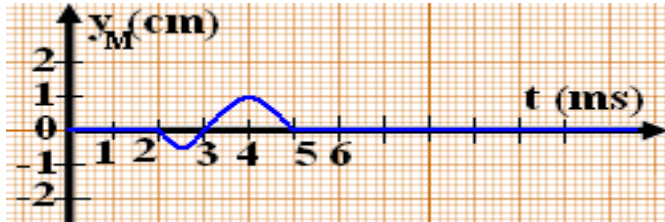
Les ondes mécaniques progressives

الجزء الأول : الموجات
الوحدة 1

ذ. هشام محجر

تمرين 9 :

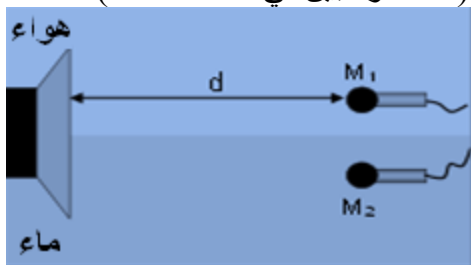
نحدث تشوها بطرف حبل موتر . تنطلق الموجة عند $t=0$ من نقطة O أصل المحور $(x'x)$ المطابق لاتجاه الحبل . يمثل المنحنى أسفله تغيرات الأرتوب $y_M(t)$ لنقطة M من الحبل ، أفصولها $x_M=8\text{cm}$ ، بدلالة الزمن .



- 1- في أي لحظة t_1 تصل الموجة للنقطة M ؟
- 2- احسب سرعة انتشار الموجة طول الحبل .
- 3-1- ما المدة الزمنية Δt التي تتحرك خلالها النقطة M ؟
- 3-2- استنتج طول التشوه .
- 4- نعتبر نقطة N من الحبل أفصولها $x_N=32\text{cm}$.
- 4-1- احسب التأخر الزمني τ عند النقطة N بالنسبة لـ M .
- 4-2- ما اللحظة t_2 التي تصل عندها الموجة للنقطة N ؟
- 4-3- مثل $y_N(t)$.
- 5- مثل شكل الحبل عند اللحظة t_2 .

تمرين 10 :

يرسل مكبر صوت موجة صوتية ، تنتشر في الهواء والماء . نضع ميكروفونين M_1 و M_2 على مسافة d من مكبر الصوت ، حيث وضع M_1 في الهواء ووضع M_2 في الماء (كما هو مبين في الشكل أسفله) .

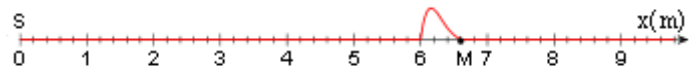


نعطي :

- 1- سرعة الصوت في الهواء $V_{\text{هواء}} = 340\text{m.s}^{-1}$.
- 1- سرعة الصوت في الماء $V_{\text{ماء}} = 1,5\text{km.s}^{-1}$.
- 1- أي من الميكروفونين يصله الموجة أولا ؟
- 2- نرسم بـ Δt للفارق الزمني الذي يفصل وصول الموجة الصوتية للميكروفونين M_1 و M_2 .
- حدد المسافة d بدلالة Δt والسرعات $V_{\text{هواء}}$ و $V_{\text{ماء}}$.
- 3- احسب قيمة d بالنسبة لـ $\Delta t=20\text{ms}$.

تمرين 6 :

يمثل الشكل أسفله ، مظهر حبل عند لحظة t تنتقل عبره إشارة انطلاقا من المنبع S ، بسرعة $V=4\text{m/s}$.



- 1- تنطلق الإشارة من المنبع S عند اللحظة $t=0$ حيث $x_S=0$.
- 1- في أي لحظة تبدأ النقطة M في الحركة ؟
- 2- صف حركة النقطة M عندما تصلها الإشارة .
- 3- حدد مدة حركة نقطة من الحبل .
- 4- أرسم مظهر الحبل عند اللحظة $t=2,2\text{s}$.

تمرين 7 :

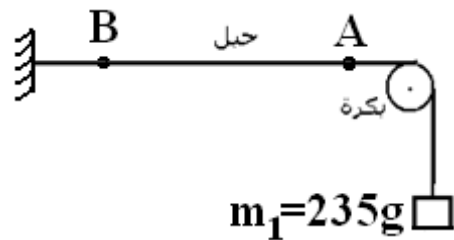
تنتقل إشارة طول حبل مرن بسرعة $V=3\text{m/s}$. ويمثل الشكل أسفله مظهر الحبل عند اللحظة t_0 .



- 1- هل الموجة طول الحبل طولية أم مستعرضة ؟
- 2- حدد مدة التشوه .
- 3- أرسم مظهر الحبل عند اللحظة $t_1=t_0+0,5\text{s}$ و $t_2=t_0-1,5\text{s}$.

تمرين 8 :

تعطي العلاقة $v = \sqrt{\frac{T}{\mu}}$ ، سرعة انتشار موجة طول حبل موتر حيث T توتر الحبل و μ كتلته الطولية .



- 1- نعتبر حبلًا موترًا كما هو مبين في الشكل جانبه . ما قيمة توتر الحبل إذا علمنا أنه يساوي وزن الكتلة المعلمة ؟
- 2- كتلة حبل طوله $L=11\text{m}$ هي $m=176\text{g}$. حدد قيمة الكتلة الطولية للحبل .
- 3- احسب سرعة انتشار الموجة طول هذا الحبل .
- 4- توجد بالحبل بقعتان A و B مُلوّنتان تفصل بينهما المسافة $d=8,2\text{cm}$. ما التأخر الزمني τ بين A و B ؟
- 5- هل تتزايد أم تتناقص سرعة انتشار الموجة عند تزايد الكتلة m_1 للكتلة المعلمة ؟ نعطي $g=9,8\text{N/kg}$.